


Atividades 4ª Semana de agosto – de 24/08 a 28/08/2020
Componentes Curriculares: Língua Portuguesa/ Matemática

1- Leia e cante a música abaixo.



2- Faça um x nas respostas certas.

a) É a última palavra do texto.

() despedaçada () rosa (**x**) chorar () desmaio

b) O cravo e a rosa estavam debaixo da:

() janela (**x**) sacada () árvore () varanda

3) Preencha o quadro com o que se pede.

PALAVRA	SEPARAR EM SÍLABAS	NÚMERO DE SÍLABAS	NÚMERO DE LETRAS
Rosa	Ro - sa	2	4
Sacada	Sa- ca - da	3	6
Doente	Do – en - te	3	6
Chorar	Cho - rar	2	6
Cravo	Cra - vo	2	5
Com	Com	1	3

4- Escreva a frase corretamente dando espaço entre as palavras.

OCRAVOBRIGOUCOMAROSA.

O CRAVO BRIGOU COM A ROSA.

Resolva os probleminhas:

5- Maísa colheu 12 margaridas e 16 rosas. Quantas flores Maísa colheu?

+1 2

$$\begin{array}{r} 16 \\ + 2 \\ \hline 18 \end{array}$$

R: Maísa colheu 18 flores.


6- Kauã plantou 35 mudas de rosas, 14 mudas morreram. Quantas mudas restaram?

- 3 5

$$\begin{array}{r} 35 \\ - 14 \\ \hline 21 \end{array}$$

R: Restaram 21 mudas.

7- Escreva o antecessor e sucessor dos números abaixo.



8- Observe abaixo a quantia que Gabriela usou para comprar uma rosa.



Qual foi a quantia que Gabriela usou para comprar a rosa?

() 20 reais () 5 reais (**x**) 10 reais () 30 reais

9- Observe na tabela abaixo a quantidade de salgados que a mãe de Manu fez.

SALGADOS	QUANTIDADE
PASTEL	30
COXINHA	50
EMPADA	20
CIGARRETE	40

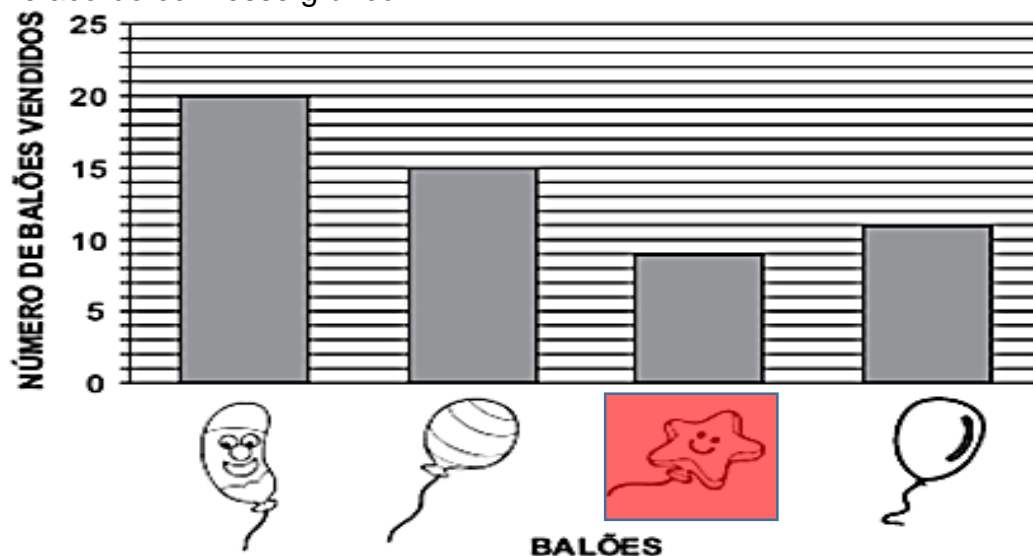
a) De acordo com a tabela, qual a quantidade de empada que a mãe de Manu fez?

20 empadas.

b) Somando os pastéis e as coxinhas, quantos salgados são ao todo?

() 90 () 70 (**x**) 80 () 50

10 – O gráfico abaixo mostra os balões que foram vendidos em uma loja.
De acordo com esse gráfico.



Pinte o tipo de balão **menos vendido** na loja.

Componente Curricular Ciências

Caça-palavras

Procure no quadro abaixo as seguintes palavras (faça um colorido).

OLHO



BOCA



NARIZ



DEDO



A	B	C	D	E	O	L	H	O	F	G	H	I	J	L	M
O	N	A	R	I	Z	P	Q	K	W	R	S	T	V	X	Z
A	B	C	D	E	F	G	H	I	B	O	C	A	J	L	M
O	P	Q	D	E	D	O	R	T	S	U	V	X	Z	A	B
C	D	E	F	G	H	Y	W	K	J	L	M	N	O	P	Q

2- Escreva uma frase com o desenho.



Mário machucou a boca.

Componentes Curriculares História/Geografia

Mamãe, papai ou responsável leia a lenda com seu filho(a) e ajude-o (a) a responder as atividades propostas.

IARA

A Iara é uma lenda do folclore brasileiro.

Ela é uma linda sereia que vive no Rio Amazonas, sua pele é morena, possui cabelos longos e negros, seus olhos são castanhos.

A Iara costuma tomar banho nos rios e cantar uma melodia irresistível, desta forma os homens que a veem não conseguem resistir aos seus desejos e pulam dentro do rio. Ela tem o poder de cegar quem a admira e levar para o fundo do rio qualquer homem que desejar se casar.



Marque com um X as respostas certas:

1- Onde essa linda sereia vive:

() No Rio negro () No Rio São Francisco (**x**) No Rio Amazonas

2- A cor da pele da sereia é:

() Negra (**x**) Morena () Branca

3- A sereia possui:

(**x**) Cabelos longos e pretos.
() Cabelos curtos e negros.
() Cabelos longos e vermelhos.

4- Os olhos da sereia são:

() Azuis () Pretos (**x**) Castanhos () Verdes